

2015年湖南省普通高中学业水平考试大纲

数 学

湖南省教育厅制订

一、考试目标

普通高中数学学业水平考试是面向全体普通高中学生的达标性考试。考试依据普通高中的培养目标，系统检测学生学习数学必修课程的情况，突出考查学生数学基础知识、基本技能、基本思想和基本活动经验，全面评估普通高中学校落实数学课程标准的基本要求的情况。考试充分体现新课程理念，关注高中学科主干知识和核心概念，关注数学与日常生活、生产实践的联系，引导社会、学校和家庭形成正确的质量观和人才观，发挥考试对高中数学教学的正确导向作用。

二、命题依据

为实现普通高中教育培养目标，数学学业水平考试将依据《高中数学课程标准(2011年版)》(下文简称《课程标准》)、《湖南省普通高中学业水平考试实施方案(试行)》(下文简称《实施方案》)和《2015年湖南省普通高中学业水平考试大纲·数学(试行)》(下文简称《考试大纲》)，以及我省现行使用的普通高中数学课程标准实验教科书(人教A版，数学1~数学5)，结合我省普通高中数学教学的实际情况命题，力求规范、科学，符合我省高中数学教学实践最广泛的要求。

三、命题原则

1. 导向性原则. 命题立意面向全体学生, 有利于促进学生全面、和谐、健康地发展, 有利于中学实施素质教育, 有利于体现数学学科新课程理念, 充分发挥学业水平考试对普通高中数学学科教学的正确导向作用.

2. 基础性原则. 试卷选题突出考查数学学科基础知识、基本技能、基本思想和基本活动经验, 考查初步应用数学学科知识与方法分析问题、解决问题的能力. 试题植根于教材, 关注作为普通高中毕业学生必须具备的数学素养.

3. 科学性原则. 试题设计必须与《课程标准》和《考试大纲》要求一致, 关注数学学科的主干知识和核心内容, 关注数学学科与社会实践的联系, 贴近学生的生活实际. 试卷结构合理、内容科学, 试题表述简洁规范、答案准确.

4. 公平性原则. 试题选材应充分考虑我省高中数学教学的实际情况, 注意到我省不同市(州)基础教育发展的不平衡性, 面向全体学生. 联系日常生活、生产实际的试题背景应当是不同层面学生都熟悉并能理解的, 以保证测试的公平性.

四、考试内容与要求

普通高中数学学业水平考试根据《实施方案》、《课程标准》和《考试大纲》，将本学科能力层级由低到高分为“识记”、“理解”、“掌握”和“应用”，并分别用 A、B、C、D 表示.学科能力层级与《实施方案》中提出的能力层级关系如下：

A：识记（包括了解、体会、知道、感知等）——对所学过的内容（包括基础知识、基本方法、基本体验和基本思想（下同））能准确识别、再认和直接应用.

B：理解（包括描述、解释、归纳、总结等）——对所学过的内容能进行理性分析和综合论证，并将其融入已有的认知结构.

C：掌握（包括导出、分析、推理、证明等）——对所学过的内容有较深刻的认识，能直接运用于解决与本内容相关的问题.

D：应用（包括探究、讨论、迁移、问题解决等）——能运用所学过的知识分析和解决有关的数学问题.

全卷中 A、B、C、D 各能力层级试题所占比例依次控制为 20%、45%、30%、5%左右.

模块	内容	能力层级				备注
		A	B	C	D	
数 学 1	集合的含义与表示	√				
	集合间的基本关系		√			
	集合的基本运算		√			
	函数的概念		√			包括求简单函数的解析式、定义域和值域
	函数的表示法			√		
	函数的单调性与最大（小）值			√		关注学科内综合
	函数的奇偶性		√			
	指数与指数幂的运算		√			
	指数函数及其性质			√		
	对数与对数运算		√			
	对数函数及其性质			√		
	幂函数	√				
	方程的根与函数的零点		√			
	用二分法求方程的近似解	√				
	几类不同增长的函数模型		√			
函数模型的应用				√	关注实践应用	
数 学 2	柱、锥、台、球的结构特征	√				
	简单组合体的结构特征	√				
	中心投影与平行投影	√				
	空间几何体的三视图			√		
	空间几何体的直观图	√				
	柱体、锥体、台体、球的表面积和体积	√				
	平面	√				
空间中直线与直线之间的位置关系		√			包括异面直线所成的角	

数 学 2	空间中直线与平面之间的位置关系		√			
	平面与平面之间的位置关系		√			
	直线与平面平行的判定与性质			√		
	平面与平面平行的判定与性质			√		
	直线与平面垂直的判定与性质			√		包括直线与平面所成的角
	平面与平面垂直的判定与性质			√		包括二面角
	直线的倾斜角与斜率		√			包括斜率公式
	两条直线平行与垂直的判定			√		
	直线的点斜式、两点式和一般式方程			√		包括直线的斜截式、截距式方程
	两直线的交点坐标		√			
	两点间的距离		√			
	点到直线的距离		√			
	两条平行直线之间的距离	√				
	圆的标准方程		√			
	圆的一般方程		√			
	直线与圆的位置关系				√	关注学科内综合
	圆与圆的位置关系		√			
	直线与圆的方程的应用			√		关注实践应用
	空间直角坐标系	√				
	空间两点间的距离公式	√				
数 学 3	算法的概念	√				
	程序框图与算法的基本逻辑结构		√			
	输入语句、输出语句和赋值语句		√			
	条件语句		√			
	循环语句		√			
	算法案例	√				
	简单随机抽样		√			

数 学 3	系统抽样		√			
	分层抽样		√			
	用样本的频率分布估计总体分布			√		
	用样本的数字特征估计总体的数字特征				√	关注实践应用
	变量之间的相关关系	√				
	两个变量的线性相关		√			
	随机事件的概率	√				
	概率的意义		√			
	概率的基本性质		√			
	古典概型			√		
	(整数值) 随机数的产生		√			
	几何概型			√		
	均匀随机数的产生		√			
数 学 4	任意角	√				
	弧度制		√			
	任意角的三角函数		√			
	同角三角函数的基本关系			√		
	三角函数的诱导公式		√			
	正弦函数、余弦函数的图象			√		包括“五点法”作图
	正弦函数、余弦函数的性质			√		
	正切函数的性质与图象		√			
	函数 $y = A\sin(ax + \varphi)$ 的图象			√		
	三角函数模型的简单应用				√	关注实践应用
平面向量的物理背景与概念	√					
平面向量的几何表示	√					
相等向量与共线向量	√					
平面向量加法运算及其几何意义		√				

数 学 4	平面向量减法运算及其几何意义		√			
	平面向量数乘运算及其几何意义		√			
	平面向量基本定理		√			
	平面向量的正交分解及坐标表示	√				
	平面向量的坐标运算			√		
	平面向量共线的坐标表示		√			
	平面向量数量积的物理背景及其含义		√			
	平面向量数量积的坐标表示、模、夹角			√		
	平面向量的应用举例			√		
	两角和与差的正弦、余弦和正切公式		√			
	二倍角的正弦、余弦、正切公式		√			
	简单的三角恒等变换		√			
数 学 5	正弦定理和余弦定理		√			包括三角形的面积公式
	正弦定理和余弦定理的应用举例				√	关注实践应用
	数列的概念与简单表示法	√				
	等差数列			√		包括等差数列通项公式
	等差数列的前 n 项和			√		
	等比数列			√		包括等比数列通项公式
	等比数列的前 n 项和			√		
	不等关系与不等式	√				
	一元二次不等式及其解法			√		
	二元一次不等式(组)与平面区域		√			
简单的线性规划问题			√			
基本不等式			√		关注学科内综合	

五、考试方式、时量与分值

考试方式	纸笔测试；闭卷
考试时量	120 分钟
试卷分值	100 分

六、试卷结构

1. 各类题型与分值

题 型	题 量	分 值
选择题	10 小题	40 分
填空题	5 小题	20 分
解答题	5 小题	40 分

2. 考试内容与分值

必修模块	数学 1	数学 2	数学 3	数学 4	数学 5
所占分值	20 分	20 分	20 分	20 分	20 分

3. 难度分布

难度级别	容易题	中档题	稍难题
难度系数	[0.85, 1]	[0.70, 0.85)	[0.55, 0.70)
约占比例	70%	20%	10%

七、题型示例

(一) 选择题

【例 1】 从一个容量为 N 的总体抽取容量为 n 的样本，当选取简单随机抽样、系统抽样和分层抽样三种不同的方法抽取样本时，总体中每个个体被抽到的概率分别为 p_1, p_2, p_3 ，则 () .

A. $p_1 = p_2 < p_3$

B. $p_2 = p_3 < p_1$

C. $p_1 < p_3 = p_2$

D. $p_1 = p_2 = p_3$

【说明】 本题立意于教材对三种抽样方法——简单随机抽样、系统抽样和分层抽样的概念和特征的本质理解，这是统计思想的精髓，能力层级为 A，属于容易题，预测难度为 0.94.

【参考答案】 D.

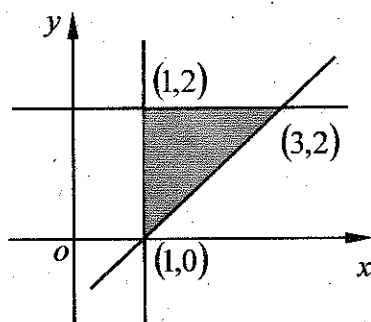
【例 2】 已知点 (x, y) 在如图所示的平面区域（阴影部分）内运动，则 $z = x + y$ 的最大值是 () .

A. 1

B. 2

C. 3

D. 5



(例 2 图)

【说明】本题给出了可行域，主要考查简单的线性规划的核心方法——求目标函数在给定区域上的最优解问题，能力层级为 B，属于容易题，预测难度为 0.89.

【参考答案】D.

【例 3】已知 O 为 $\triangle ABC$ 所在平面内的一点，若 $\overrightarrow{AO} = \frac{1}{2}(\overrightarrow{AB} + \overrightarrow{AC})$ ，则 O 为 () .

- A. AB 中点 B. BC 中点
C. CD 中点 D. A 点

【说明】本题是由教材《数学 4》第 118 页第 2 (5) 题，通过逆向思考、改造变形而得的.主要考查平面向量的概念和平面向量加法运算——平行四边形法则的灵活运用，能力层级为 C，属于中档题，预测难度为 0.81.

【参考答案】B.

【例 4】已知 $f(x)$ ， $g(x)$ 分别是定义在 \mathbf{R} 上的偶函数和奇函数，且 $f(x) - g(x) = x^3 + x^2 + 1$ ，则 $f(1) + g(1) = ()$.

- A. -3 B. -1 C. 1 D. 3

【说明】本题考查对函数奇偶性的理解和简单函数方程的转化、化归和运用规律，函数与方程的数学思想贯穿于解题的全过程，能力层级为 D，属于稍难题，预测难度为 0.67.

【参考答案】C.

(二) 填空题

【例 5】经过点 $A(0,3)$ ，且与直线 $y = -x + 2$ 垂直的直线方程是_____.

【说明】本题来源于教材《数学 2》第 101 页第 10 (3) 题，考查对两直线垂直关系的认识和理解，要求能根据直线的斜率和直线上一个点的坐标，求直线的方程，能力层级为 B，属于容易题，预测难度为 0.91.

【参考答案】 $x - y + 3 = 0$.

【例 6】在如图所示的程序中，若输入 $x = 5$ ，则输出的 $y =$ _____.

【说明】本题来源于教材《数学 3》第 33 页 A 组第 1 题.考查程序语言的基本逻辑结构，能力层级为 B，属于中档题，预测难度为 0.82.

【参考答案】2.

```
INPUT x
IF x < 0 THEN
y = 2x + 3
ELSE
y = x - 3
END IF
PRINT y
END
```

(例 6 图)

【例 7】 已知函数 $f(x) = \log_{2a} x$, 若 $0 < x < 1$ 时, $f(x) > 0$, 则实数 a 的取值范围是_____.

【说明】 本题考查对数函数的图象与性质, 能力层级为 C, 属于稍难题, 预测难度为 0.69.

【参考答案】 $(0, \frac{1}{2})$.

(三) 解答题

【例 8】 已知函数 $f(x) = 2 \sin x \cos x$, $x \in \mathbf{R}$.

(1) 求 $f(\frac{\pi}{8})$ 的值;

(2) 求函数 $y = f(x)$ 的周期;

(3) 判断函数 $y = f(x)$ 的奇偶性, 并说明理由.

【说明】 本题主要考查简单的三角变换和三角函数的基本性质, 能力层级为 B, 属于容易题, 预测难度为 0.88.

【参考答案】 (1) 因为 $f(x) = \sin 2x$, 所以 $f(\frac{\pi}{8}) = \sin \frac{\pi}{4} = \frac{\sqrt{2}}{2}$;

(2) 函数 $y = f(x)$ 的周期为 π ;

(3) 因为 $f(x) = \sin 2x$ 的定义域为 \mathbf{R} ,

又 $f(-x) = \sin 2(-x) = -\sin 2x = -f(x)$, 所以 $y = f(x)$ 为奇函数.

【例 9】一批食品，每袋的标准重量是 50g ，为了了解这批食品的实际重量，从中随机抽取 10 袋食品，称出各袋的重量（单位： g ），并得到其茎叶图（如图）。

(1) 求这 10 袋食品重量的众数，并估计这批食品实际重量的平均数；

(2) 若某袋食品的实际重量小于或等于 47g ，则视为不合格产品，试估计这批食品重量的合格率。

4	5 6 6 9
5	0 0 0 1 1 2

(例 9 图)

【说明】本题来源于教材《数学 3》第 79 页第 2 题，考查从统计图（表）

中获取数据信息和用样本数字特征估

计总体数字特征的统计思想. 本题关注数学与现实生活的联系，有助于提高学生学习的积极性，培养学生的应用意识与解决问题的能力，体现了“关注实践应用”的考试要求（见前面表格中的“备注”），能力层级为 D，属于中档题，预测难度为 0.83.

【参考答案】(1) 这 10 袋食品重量的众数为 50 (g),

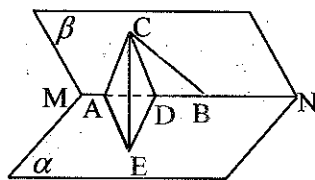
因为这 10 袋食品重量的平均数为

$$\frac{45+46+46+49+50+50+50+51+51+52}{10} = 49 \text{ (g)},$$

所以可以估计这批食品实际重量的平均数为 49 (g);

(2) 因为这 10 袋食品中实际重量小于或等于 47g 的有 3 袋, 所以可以估计这批食品重量的不合格率为 $\frac{3}{10}$, 故可以估计这批食品重量的合格率为 $\frac{7}{10}$.

【例 10】如图, 已知二面角 $\alpha - MN - \beta$ 的大小为 60° , 边长为 2 的正 $\triangle ABC$ 在面 β 内, A, B 两点在棱 MN 上, D 是 AB 的中点, $CE \perp$ 面 α , 垂足为 E.



(例 10 图)

(1) 证明: $AB \perp$ 平面 CDE;

(2) 求四面体 ACDE 的体积.

【说明】本题主要考查空间直线与直线、直线与平面垂直关系的判定定理和性质定理的具体运用, 二面角及几何体体积的计算等, 属于立体几何的主干知识和核心概念, 能力层级为 C, 属于中档题, 预测难度为 0.78.

【参考答案】(1) 因为 D 为正 $\triangle ABC$ 边 AB 的中点, 所以 $CD \perp AB$, 又因为 $CE \perp$ 面 α , AB 在平面 α 内, 所以 $AB \perp CE$, 又 CE, CD 是平面 CDE 内的两条相交直线, 所以 $AB \perp$ 平面 CDE;

(2) 由 (1) 可得, $AB \perp DE$, 则 $\angle CDE$ 为二面角 $\alpha - MN - \beta$ 的平面角, 所以 $\angle CDE = 60^\circ$, 在 $Rt\triangle CED$ 中, $CD = \sqrt{3}$, 所以 $DE = \frac{\sqrt{3}}{2}$, $CE = \frac{3}{2}$, 因为 $CE \perp$ 面 α , 所以四面体 ACDE 的体积

$$V = \frac{1}{3} \times \frac{1}{2} AD \cdot DE \cdot CE = \frac{1}{3} \times \frac{1}{2} \times 1 \times \frac{\sqrt{3}}{2} \times \frac{3}{2} = \frac{\sqrt{3}}{8}.$$

【例 11】 已知直线 $l: y = kx + 1$ 和二次函数 $f(x) = x^2 + c$ 的图象交于 A、B 两点.

(1) 求直线 l 在 y 轴上的截距 b ;

(2) 若点 A 的坐标为 (1, 2), 求点 B 的坐标;

(3) 当 $c = 0$ 时, 是否存在直线 l 与圆 C: $x^2 + y^2 - 6y + 7 = 0$ 相切? 若存在, 求线段 AB 的长; 若不存在, 说明理由.

【说明】 本题综合了二次函数、直线的方程、直线和圆的

位置关系等内容，难度不大，但有学科内综合性，对从整体高度考查学生对教学内容的理解、掌握和灵活应用能力具有一定的价值，能力层级为 D，属于中档题，预测难度为 0.76.

【参考答案】(1) 直线 l 在 y 轴上的截距 $b=1$;

(2) 将点 $A(1, 2)$ 的坐标代入 $y=kx+1$ 和 $f(x)=x^2+c$,

得 $k=1, c=1$, 解方程组 $\begin{cases} y=x+1, \\ y=x^2+1 \end{cases}$ 得 B 的坐标为 $(0, 1)$;

(3) 因为圆 C 的方程可化为 $x^2+(y-3)^2=2$, 若 l 与 C 相切, 则 $\frac{|k \times 0 - 3 + 1|}{\sqrt{k^2 + 1}} = \sqrt{2}$, 得 $k=1$ 或 $k=-1$.

当 $k=1$ 时, 直线 $l: y=x+1$ 与 $f(x)=x^2$ 的交点坐标为

$(\frac{1-\sqrt{5}}{2}, \frac{3-\sqrt{5}}{2})$ 和 $(\frac{1+\sqrt{5}}{2}, \frac{3+\sqrt{5}}{2})$, 所以 $|AB|=\sqrt{10}$;

当 $k=-1$ 时, 直线 $l: y=-x+1$ 与 $f(x)=x^2$ 的交点坐标为

$(\frac{-1-\sqrt{5}}{2}, \frac{1-\sqrt{5}}{2})$ 和 $(\frac{-1+\sqrt{5}}{2}, \frac{1+\sqrt{5}}{2})$, 所以 $|AB|=\sqrt{10}$;

综上, 存在直线 l 满足条件, 且 $|AB|=\sqrt{10}$.

【例 12】 已知函数 $f(x) = 2^x + \lambda \cdot 2^{-x}$ ($\lambda \in \mathbf{R}$).

(1) 当 $\lambda = -1$ 时, 求函数 $f(x)$ 的零点;

(2) 若函数 $f(x)$ 为偶函数, 求实数 λ 的值;

(3) 若不等式 $\frac{1}{2} \leq f(x) \leq 4$ 在 $x \in [0, 1]$ 上恒成立, 求实数 λ 的取值范围.

【说明】 本题综合了指数函数、函数的性质、函数与方程及函数与不等式等知识, 主要考查指数函数的概念和性质、函数的零点及函数与不等式的综合运用, 体现了“关注学科内综合”的考试要求 (见前面表格中的“备注”), 能力层级为 D, 属于稍难题, 预测难度为 0.60.

【参考答案】 (1) 令 $f(x) = 0$, 得 $2^x - 2^{-x} = 0$, 得 $x = 0$,

故函数 $f(x)$ 的零点为 $x = 0$;

(2) 因为 $f(x)$ 为偶函数, 所以 $f(-x) - f(x) = 0$,

即 $2^{-x} + \lambda \cdot 2^x - 2^x - \lambda \cdot 2^{-x} = 0$, 亦即 $(\lambda - 1)(2^x - 2^{-x}) = 0$,

因为 $2^x - 2^{-x}$ 不恒为零, 所以 $\lambda = 1$;

(3) 令 $t = 2^x$, 由 $x \in [0, 1]$, 得 $t = 2^x \in [1, 2]$, 原不等式等价于

$\frac{1}{2} \leq t + \frac{\lambda}{t} \leq 4$ 在 $t \in [1, 2]$ 上恒成立, 即 $t \in [1, 2]$ 时, 不等式转化为

$$\begin{cases} \lambda \geq \left(-t^2 + \frac{1}{t}\right)_{\max}, \\ \lambda \leq \left(-t^2 + 4t\right)_{\min}. \end{cases}$$

所以 $\begin{cases} \lambda \geq -\frac{1}{2}, \\ \lambda \leq 3, \end{cases}$ 故实数 λ 的取值范围是 $\left[-\frac{1}{2}, 3\right]$.

【例 13】 已知数列 $\{a_n\}$ 的前 n 项和为 $S_n = 2^n + a$ (a 为常数, $n \in \mathbf{N}^*$).

(1) 求 a_1, a_2, a_3 ;

(2) 若数列 $\{a_n\}$ 为等比数列, 求常数 a 的值及 a_n ;

(3) 对于 (2) 中的 a_n , 记 $f(n) = \lambda \cdot a_{2n+1} - 4\lambda \cdot a_{n+1} - 3$, 若 $f(n) < 0$ 对任意的正整数 n 恒成立, 求实数 λ 的取值范围.

【说明】 本题综合考查了数列、函数、不等式等基础知识和基本方法, 以及函数与方程、化归与转换、数形结合等重要的数学思想. 问题的解决要求学生在具体情境中综合运用所学知识, 进行分析和探究, 落实了“关注学科内综合”的考试要求 (见前面表格中的“备注”). 能力层级为 D, 属于稍难题, 预测难度为 0.58.

【参考答案】(1) $a_1 = S_1 = a + 2$, 由 $S_2 = a_1 + a_2 = 4 + a$, 得 $a_2 = 2$, 由 $S_3 = a_1 + a_2 + a_3 = 8 + a$, 得 $a_3 = 4$;

(2) 因为 $a_1 = a + 2$, 当 $n \geq 2$ 时, $a_n = S_n - S_{n-1} = 2^{n-1}$, 又 $\{a_n\}$ 为等比数列, 所以 $a_1 = 2^0 = 1$, 得 $a + 2 = 1$, 即 $a = -1$, 故 $a_n = 2^{n-1}$;

(3) 因为 $a_n = 2^{n-1}$, 所以 $f(n) = \lambda \cdot 2^{2n} - 4\lambda \cdot 2^n - 3$, 令 $t = 2^n$, 则 $t \geq 2$, $f(n) = \lambda \cdot t^2 - 4\lambda \cdot t - 3 = \lambda(t-2)^2 - 4\lambda - 3$.

设 $g(t) = \lambda(t-2)^2 - 4\lambda - 3$, 则

当 $\lambda = 0$ 时, $f(n) = -3 < 0$ 恒成立;

当 $\lambda > 0$ 时, $f(n) = g(t) = \lambda(t-2)^2 - 4\lambda - 3$ 对应的点在开口向上的抛物线上, 所以 $f(n) < 0$ 不可能恒成立;

当 $\lambda < 0$ 时, $f(n) = g(t) = \lambda(t-2)^2 - 4\lambda - 3$ 在 $t \geq 2$ 时有最大值 $-4\lambda - 3$, 所以要使 $f(n) < 0$ 对任意的正整数 n 恒成立, 只需 $-4\lambda - 3 < 0$, 即 $\lambda > -\frac{3}{4}$, 此时 $-\frac{3}{4} < \lambda < 0$;

综上实数 λ 的取值范围为 $\left(-\frac{3}{4}, 0\right]$.

八、2015年湖南省普通高中学业水平考试样卷

数 学

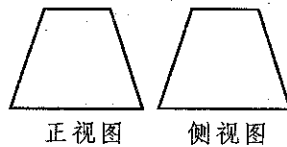
本试题卷包括选择题、填空题和解答题三部分。

时量 120 分钟，满分 100 分。

一、选择题：本大题共 10 小题，每小题 4 分，满分 40 分。在每小题给出的四个选项中，只有一项是符合题目要求的。

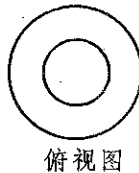
1. 如图是一个几何体的三视图，则该几何体为

- A. 圆柱
B. 圆锥
C. 圆台
D. 球



2. 已知元素 $a \in \{0,1,2,3\}$ ，且 $a \notin \{0,1,2\}$ ，则 a 的值为

- A. 0
B. 1
C. 2
D. 3



俯视图

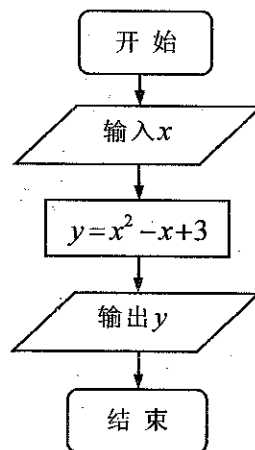
(第1题图)

3. 在区间 $[0, 5]$ 内任取一个实数，则此数大于 3 的概率为

- A. $\frac{1}{5}$
B. $\frac{2}{5}$
C. $\frac{3}{5}$
D. $\frac{4}{5}$

4. 某程序框图如图所示，若输入 x 的值为 1，则输出 y 的值是

- A. 2
B. 3



(第4题图)

C. 4

D. 5

5. 在 $\triangle ABC$ 中, 若 $\overrightarrow{AB} \cdot \overrightarrow{AC} = 0$, 则 $\triangle ABC$ 的形状是

A. 直角三角形

B. 等腰三角形

C. 锐角三角形

D. 钝角三角形

6. $\sin 120^\circ$ 的值为

A. $\frac{\sqrt{2}}{2}$

B. -1

C. $\frac{\sqrt{3}}{2}$

D. $-\frac{\sqrt{2}}{2}$

7. 如图, 在正方体 $ABCD-A_1B_1C_1D_1$ 中, 直线 BD

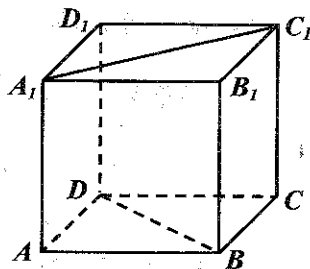
与 A_1C_1 的位置关系是

A. 平行

B. 相交

C. 异面但不垂直

D. 异面且垂直



(第7题图)

8. 不等式 $(x+1)(x-2) \leq 0$ 的解集为

A. $\{x | -1 \leq x \leq 2\}$

B. $\{x | -1 < x < 2\}$

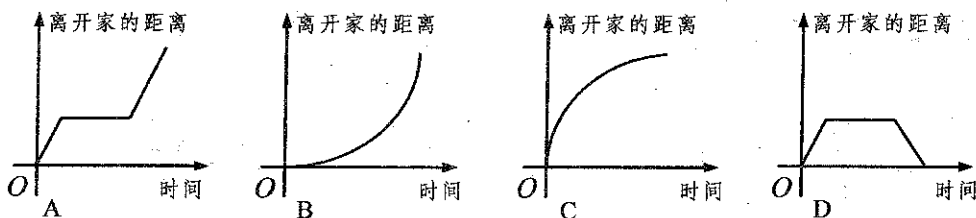
C. $\{x | x \geq 2 \text{ 或 } x \leq -1\}$

D. $\{x | x > 2 \text{ 或 } x < -1\}$

9. 点 $P(m,1)$ 不在不等式 $x+y-2 < 0$ 表示的平面区域内, 则实数 m 的取值范围是

- A. $m < 1$ B. $m \leq 1$ C. $m \geq 1$ D. $m > 1$

10. 某同学从家里骑车一路匀速行驶到学校, 只是在途中遇到一次交通堵塞, 耽搁了一些时间. 下列函数的图象最能符合上述情况的是



二、填空题: 本大题共 5 小题, 每小题 4 分, 满分 20 分.

11. 样本数据 $-2, 0, 6, 3, 6$ 的众数是_____.

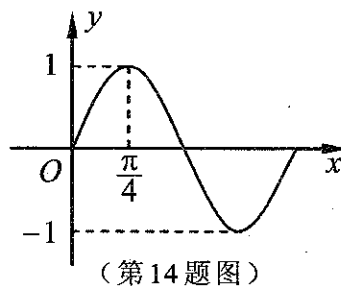
12. 在 $\triangle ABC$ 中, 角 A, B, C 所对应的边分别为 a, b, c , 已知

$$a=1, b=2, \sin A = \frac{1}{3}, \text{ 则 } \sin B = \underline{\hspace{2cm}}.$$

13. 已知 a 是函数 $f(x) = 2 - \log_2 x$ 的零点, 则实数 a 的值为_____.

14. 已知函数 $y = \sin \omega x (\omega > 0)$ 在一个周期内

的图象如图所示, 则 ω 的值为_____.



15. 如图1, 矩形 $ABCD$ 中, $AB=2BC$, E, F 分别是 AB, CD 的中点, 现在沿 EF 把这个矩形折成一个直二面角 $A-EF-C$ (如图2), 则在图2中直线 AF 与平面 $EBCF$ 所成角的大小为_____.

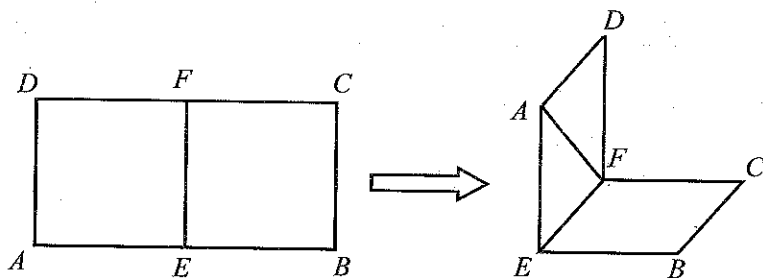


图1

(第15题图)

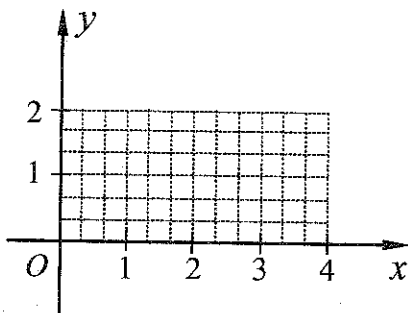
图2

三、解答题: 本大题共5小题, 满分40分. 解答应写出文字说明、证明过程或演算步骤.

16. (本小题满分6分) 已知函数 $f(x) = \begin{cases} x, & x \in [0, 2], \\ \frac{4}{x}, & x \in (2, 4]. \end{cases}$

(1) 画出函数 $f(x)$ 的大致图象;

(2) 写出函数 $f(x)$ 的最大值和单调递减区间.



(第16题图)

17. (本小题满分 8 分) 某班有学生 50 人, 其中男同学 30 人. 用分层抽样的方法从该班抽取 5 人去参加某社区服务活动.

(1) 求从该班男、女同学中各抽取的人数;

(2) 从抽取的 5 名同学中任选 2 名谈此活动的感受, 求选出的 2 名同学中恰有 1 名男同学的概率.

18. (本小题满分 8 分) 已知等比数列 $\{a_n\}$ 的公比 $q = 2$, 且 $a_2, a_3 + 1, a_4$ 成等差数列.

(1) 求 a_1 及 a_n ;

(2) 设 $b_n = a_n + n$, 求数列 $\{b_n\}$ 的前 5 项和 S_5 .

19. (本小题满分 8 分) 已知向量 $\mathbf{a} = (1, \sin\theta)$, $\mathbf{b} = (2, 1)$.

(1) 当 $\theta = \frac{\pi}{6}$ 时, 求向量 $2\mathbf{a} + \mathbf{b}$ 的坐标;

(2) 若 $\mathbf{a} \parallel \mathbf{b}$, 且 $\theta \in \left(0, \frac{\pi}{2}\right)$, 求 $\sin\left(\theta + \frac{\pi}{4}\right)$ 的值.

20. (本小题满分 10 分) 已知圆 $C: x^2 + y^2 + 2x - 3 = 0$.

(1) 求圆的圆心 C 的坐标和半径长;

(2) 直线 l 经过坐标原点且不与 y 轴重合, l 与圆 C 相交于

$A(x_1, y_1), B(x_2, y_2)$ 两点, 求证: $\frac{1}{x_1} + \frac{1}{x_2}$ 为定值;

(3) 斜率为 1 的直线 m 与圆 C 相交于 D, E 两点, 求直线 m 的方程, 使 $\triangle CDE$ 的面积最大.

2015年湖南省普通高中学业水平考试样卷

参考答案及评分标准

一、选择题（每小题4分，满分40分）

题号	1	2	3	4	5	6	7	8	9	10
答案	C	D	B	B	A	C	D	A	C	A

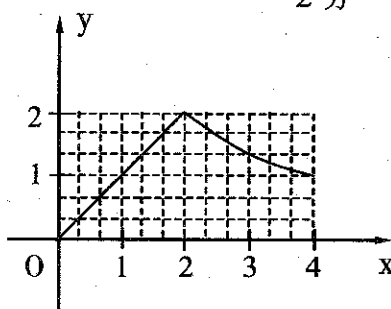
二、填空题（每小题4分，满分20分）

11. 6; 12. $\frac{2}{3}$; 13. 4; 14. 2; 15. 45° (或 $\frac{\pi}{4}$).

三、解答题（满分40分）

16. 解 (1) 函数 $f(x)$ 的大致图象如图所示;2分

(2) 由函数 $f(x)$ 的图象得出,
 $f(x)$ 的最大值为 2,4分
 其单调递减区间为 $[2,4]$6分



(第16题图)

17. 解 (1) $\frac{30}{50} \times 5 = 3$ (人), $\frac{20}{50} \times 5 = 2$ (人),

所以从男同学中抽取 3 人, 女同学中抽取 2 人;4分

(2) 用 A 表示事件“选出的 2 名同学中恰有 1 名男同学”，把抽出的 3 名男同学记为 a_1, a_2, a_3 ，把抽出的 2 名女同学记为 b_1, b_2 ，则选取两名同学的基本事件有：

$(a_1, a_2), (a_1, a_3), (a_1, b_1), (a_1, b_2), (a_2, a_3), (a_2, b_1), (a_2, b_2), (a_3, b_1), (a_3, b_2), (b_1, b_2)$,

共有 10 种，.....5 分

其中恰有一名男同学的基本事件有

$(a_1, b_1), (a_1, b_2), (a_2, b_1), (a_2, b_2), (a_3, b_1), (a_3, b_2)$ ，共 6 种，.....6 分

由古典概型得所求概率为 $P(A) = \frac{6}{10} = \frac{3}{5}$8 分

18. 解 (1) 由已知得 $a_2 = 2a_1, a_3 + 1 = 4a_1 + 1, a_4 = 8a_1$,

又 $2(a_3 + 1) = a_2 + a_4$ ，所以 $2(4a_1 + 1) = 2a_1 + 8a_1$ ，解得 $a_1 = 1$ ，.....2 分

所以 $a_n = a_1 \cdot q^{n-1} = 2^{n-1}$ ；.....4 分

(2) 因为 $b_n = 2^{n-1} + n$ ，所以 $S_5 = b_1 + b_2 + b_3 + b_4 + b_5$

$$= \frac{1 \cdot (1 - 2^5)}{1 - 2} + \frac{5 \cdot (1 + 5)}{2} = 31 + 15 = 46. \dots\dots 8 \text{ 分}$$

19. 解 (1) 因为 $\theta = \frac{\pi}{6}$ ，所以 $a = \left(1, \frac{1}{2}\right)$ ，

所以向量 $2\mathbf{a}+\mathbf{b}=2\left(1,\frac{1}{2}\right)+(2,1)=(4,2)$;4分

(2) 因为 $\mathbf{a}\parallel\mathbf{b}$, 所以 $2\sin\theta=1$, 从而 $\sin\theta=\frac{1}{2}$,5分

又因为 $\theta\in\left(0,\frac{\pi}{2}\right)$, 所以 $\cos\theta=\frac{\sqrt{3}}{2}$,6分

所以 $\sin\left(\theta+\frac{\pi}{4}\right)=\sin\theta\cos\frac{\pi}{4}+\cos\theta\sin\frac{\pi}{4}=\frac{\sqrt{2}+\sqrt{6}}{4}$8分

20. 解 (1) 配方得 $(x+1)^2+y^2=4$,

则圆心 C 的坐标为 $(-1,0)$,2分

圆的半径长为 2;4分

(2) 设直线 l 的方程为 $y=kx$,

联立方程组 $\begin{cases} x^2+y^2+2x-3=0, \\ y=kx, \end{cases}$

消去 y 得 $(1+k^2)x^2+2x-3=0$,5分

则有: $\begin{cases} x_1+x_2=-\frac{2}{1+k^2}, \\ x_1x_2=-\frac{3}{1+k^2}. \end{cases}$ 6分

所以 $\frac{1}{x_1} + \frac{1}{x_2} = \frac{x_1 + x_2}{x_1 x_2} = \frac{2}{3}$ 为定值;7分

(3) 解法一 设直线 m 的方程为 $y = x + b$, 则圆心 C 到直线 m 的距离

$$d = \frac{|b-1|}{\sqrt{2}}, \text{ 所以 } |DE| = 2\sqrt{R^2 - d^2} = 2\sqrt{4 - d^2}, \quad \dots\dots\dots 8 \text{ 分}$$

$$S_{\triangle CDE} = \frac{1}{2} |DE| \cdot d = \sqrt{4 - d^2} \cdot d \leq \frac{(4 - d^2) + d^2}{2} = 2,$$

当且仅当 $d = \sqrt{4 - d^2}$, 即 $d = \sqrt{2}$ 时, $\triangle CDE$ 的面积最大,9分

从而 $\frac{|b-1|}{\sqrt{2}} = \sqrt{2}$, 解之得 $b = 3$ 或 $b = -1$,

故所求直线方程为 $x - y + 3 = 0$ 或 $x - y - 1 = 0$10分

解法二 由 (1) 知 $|CD| = |CE| = R = 2$,

所以 $S_{\triangle CDE} = \frac{1}{2} |CD| \cdot |CE| \cdot \sin \angle DCE = 2 \sin \angle DCE \leq 2$, 当且仅当

$CD \perp CE$ 时, $\triangle CDE$ 的面积最大, 此时 $|DE| = 2\sqrt{2}$,8分

设直线 m 的方程为 $y = x + b$,

则圆心 C 到直线 m 的距离 $d = \frac{|b-1|}{\sqrt{2}}$,9分

由 $|DE| = 2\sqrt{R^2 - d^2} = 2\sqrt{4 - d^2} = 2\sqrt{2}$, 得 $d = \sqrt{2}$,

由 $\frac{|b-1|}{\sqrt{2}} = \sqrt{2}$, 得 $b = 3$ 或 $b = -1$,

故所求直线方程为 $x - y + 3 = 0$ 或 $x - y - 1 = 0$ 10分

说明: 解答题如有其它解法, 酌情给分.