

# 2016年湖南省中学数学教师解题比赛

## 高中组决赛答案

(考试时间: 2016年11月20日9:00-11:30)

说明:

1. 请用蓝色、黑色或蓝黑色钢笔或签字笔作答;
2. 答案请写在本试卷相应位置, 试卷范围以外作答无效.

题号	一	二						总分
		11	12	13	14	15	16	
记分								
评卷人								
复核人								

一、填空题 (请把唯一正确的答案写在题中的横线上. 每小题6分, 共60分.)

1. 设  $f_k(x) = \frac{1}{k}(\sin^k x + \cos^k x)$ ,  $k \in \mathbb{Z}$ , 则  $f_4(x) - f_6(x) =$ \_\_\_\_\_.

解: 填:  $\frac{1}{12}$

提示:  $f_4(x) = \frac{1}{4}(\sin^4 x + \cos^4 x) = \frac{1}{4}[(\sin^2 x + \cos^2 x)^2 - 2\sin^2 x \cos^2 x]$   
 $= \frac{1}{4}(1 - \frac{1}{2}\sin^2 2x) = \frac{1}{4} - \frac{1}{8}\sin^2 2x,$

$f_6(x) = \frac{1}{6}(\sin^6 x + \cos^6 x) = \frac{1}{6}[(\sin^2 x + \cos^2 x)^3 - 3\sin^2 x \cos^2 x(\sin^2 x + \cos^2 x)]$   
 $= \frac{1}{6}(1 - \frac{3}{4}\sin^2 2x) = \frac{1}{6} - \frac{1}{8}\sin^2 2x.$

所以  $f_4(x) - f_6(x) = \frac{1}{12}.$

2. 设  $f(x) = x^2 - 21x + 20 + |x^2 - 21x + 20|$ , 求  $f(1) + f(2) + \dots + f(21)$  的值\_\_\_\_\_.

解: 填: 40

提示: 设  $g(x) = x^2 - 21x + 20 = (x-1)(x-20)$ , 故有  $1 \leq x \leq 20$  时,  $g(x) \leq 0$ , 于是当  $1 \leq x \leq 20$  时,  
 $f(x) = g(x) - g(x) = 0$ ,  $f(1) + f(2) + \dots + f(21) = f(21) = 40.$

3. 设  $S = 1 + \frac{1}{\sqrt{3}} + \frac{1}{\sqrt{5}} + \dots + \frac{1}{\sqrt{(2n+1)^2}}$ , 则  $[S] = \underline{\hspace{2cm}}$ . ( $[S]$  表示不超过  $S$  的最大整数)

解: 填:  $2n$

提示: 由  $\frac{1}{\sqrt{k}} > \sqrt{k+2} - \sqrt{k}$ ,  $\frac{1}{\sqrt{k+2}} < \sqrt{k+2} - \sqrt{k}$  ( $k=1, 2, \dots, n$ ) 放缩, 得  $2n < S < 2n+1$ . 故  $[S] = 2n$ .

4. 点  $F$  是椭圆  $\frac{x^2}{4} + \frac{y^2}{3} = 1$  的右焦点, 过点  $F$  的直线  $l$  与椭圆交于点  $A, B$  两点, 且有  $\vec{AB} = 3\vec{FB}$ , 则直线  $l$  的斜率是  $\underline{\hspace{2cm}}$ .

解: 填:  $\pm \frac{\sqrt{5}}{2}$

提示: 设  $A(x_1, y_1), B(x_2, y_2)$ .

又  $F(1, 0)$ ,  $\vec{AB} = 3\vec{FB}$ , 则  $(x_2 - x_1, y_2 - y_1) = 3(x_2 - 1, y_2)$ , 即

$$x_1 = 3 - 2x_2, \quad y_1 = -2y_2.$$

而  $\frac{x_2^2}{4} + \frac{y_2^2}{3} = 1$  及  $\frac{(3-2x_2)^2}{4} + \frac{(-2y_2)^2}{3} = 1$ , 解得  $x_2 = \frac{7}{4}$ ,  $y_2 = \pm \frac{3\sqrt{5}}{8}$ .

所以直线  $l$  的斜率是  $\frac{\pm \frac{3\sqrt{5}}{8}}{\frac{7}{4} - 1} = \pm \frac{\sqrt{5}}{2}$ .

5. 已知  $A = \{(x, y) \mid x^2 + y^2 \leq a^2\}$ ,  $B = \{(x, y) \mid |x^2 - \frac{y^2}{2}| \leq 1\}$  若  $A \subseteq B$ , 则实数  $a$  的取值范围是  $\underline{\hspace{2cm}}$ .

解: 填:  $a \in [-1, 1]$

提示: 当  $a = 0$  时, 显然满足题意.

当  $a \neq 0$  时,  $b^2 + c^2 \leq a^2$  对应的区域是以  $O$  点为圆心,  $|a|$  为半径的圆及其内部.  $\left| b^2 - \frac{c^2}{2} \right| \leq 1$  对

应的区域是两双曲线  $x^2 - \frac{y^2}{2} = \pm 1$  及其外部的公共部分. 这时,  $|a| \leq 1$ , 且  $a \neq 0$ .

综合上述,  $a \in [-1, 1]$ .

6. 设  $a, b \in \mathbb{R}, a < b \leq a+2$  , 若函数  $f(x)$  满足:  $x \in (a, b)$  时,  $f(x) > 0$  ,  $x \notin (a, b)$  时,  $f(x) = 0$  .

构造函数:  $f_1(x) = f(x), f_2(x) = f_1(2x-1) + f_1(2x+1), f_k(x) = f_{k-1}(2x-1) + f_{k-1}(2x+1), k = 3, 4, \dots$

求满足  $f_n(x) > 0 (n \geq 1)$  时  $x$  的集合为\_\_\_\_\_.

解: 填  $\frac{a+1}{2^n} - 1 < x < \frac{b-1}{2^n} + 1$  .

提示: 由题设, 知  $f_2(x) = f_1(2x-1) + f_1(2x+1) > 0$  当且仅当

$a < 2x-1 < b, a < 2x+1 < b$  时成立, 由于  $a < b \leq a+2$ , 解前述不等式得到  $\frac{a-1}{2} < x < \frac{b+1}{2}$ , 记

$a_1 = \frac{a-1}{2}, b_1 = \frac{b+1}{2}$ , 则  $f_2(x) > 0$  的区间为  $(a_1, b_1)$ , 一直递推下去知  $f_n(x) > 0$  的区间  $(a_n, b_n)$  满足下面的递推关系:

$$a_0 = a, a_n = a_{n-1} - \frac{a+1}{2^n}, b_0 = b, b_n = b_{n-1} + \frac{1-a}{2^n}; n = 1, 2, 3, L;$$

解得  $a_n = \frac{a+1}{2^n} - 1, b_n = 1 + \frac{b-1}{2^n} (n = 0, 1, 2, L)$ , 满足题设条件的集合为  $\frac{a+1}{2^n} - 1 < x < \frac{b-1}{2^n} + 1$  .

7. 设  $a, b \in \mathbb{R}, a < b$  函数  $g(x) = \max_{a \leq t \leq b} |x+t| (x \in \mathbb{R})$ , 则  $g(x)$  的最小值为:  $\frac{b-a}{2}$

解: 填:  $\frac{b-a}{2}$

解析: 对于每一个  $x \in \mathbb{R}$ , 函数  $f(t) = x+t$  是线性函数, 因此, 在任意有限区间上函数  $|f(t)|$  的最大值与最小值均在区间端点处达到, 从而有

$$g(x) = \max_{a \leq t \leq b} |x+t| = \max_{a, b} \{|x+a|, |x+b|\}$$

由于函数  $y = |x+a|, y = |x+b|$  的交点横坐标  $c$  满足  $-(c+b) = c+a \Rightarrow c = -\frac{a+b}{2}$ , 得到

$$g(x) = \begin{cases} |x+a|, & x \leq c, \\ |x+b|, & x > c \end{cases}, \text{ 且}$$

$$\min_x g(x) = g(c) = \frac{b-a}{2} .$$

另解: 首先设  $[a, b] = [-1, 1]$ ,  $F(t) = x+t$ , 则  $F(1) - F(-1) = 2$ , 因此,

$2 \max_{-1 \leq t \leq 1} |x+t| \geq |F(1)| + |F(-1)| \geq |F(1) - F(-1)| = 2$ , 故  $\max_{-1 \leq t \leq 1} |x+t| \geq 1$ , 另一方面, 取  $x = 0$ ,

则  $\max_{-1 \leq t \leq 1} |t| = 1$ , 这表明此时有  $\min_x \max_{-1 \leq t \leq 1} |x+t| = 1$ , 当  $[a, b] \neq [-1, 1]$  时, 构造变换

$$t = \frac{b-a}{2} u + \frac{a+b}{2}, \Rightarrow u \in [-1, 1], \text{ 以及}$$

$\max_{a \leq t \leq b} |t+x| = \frac{b-a}{2} \max_{-1 \leq u \leq 1} |u + (\frac{2x+a+b}{b-a})|$ , 由上面的讨论, 知  $g(x) = \max_{a \leq t \leq b} |x+t| (x \in \mathbf{R})$  的最小值为  $\frac{b-a}{2}$ , 此时有  $\frac{2x+a+b}{b-a} = 0$ , 即  $x = -\frac{a+b}{2}$ .

8. 体积为  $\frac{16}{3}$  的正四棱锥  $S-ABCD$  的底面中心为  $O$ ,  $SO$  与侧面成的角的正切值为  $\frac{\sqrt{2}}{2}$ , 那么过  $S-ABCD$  的各顶点的球的体积为\_\_\_\_\_.

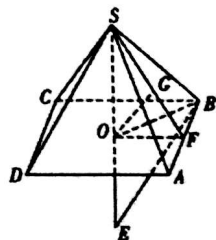
解: 填 A.

解析: (1) 如图所示, 取  $AB$  的中点为  $F$ , 连接  $SF$ , 过点  $O$  作  $OG \perp SF$ , 则  $\angle OSG$  为  $SO$  与侧面所成的角, 且  $\tan \angle OSG = \frac{OG}{SO} = \frac{\sqrt{2}}{2}$ ,

设  $AB = 2a$ , 则  $SO = \sqrt{2}a$ ,

所以  $\frac{1}{3} \times 4a^2 \times \sqrt{2}a = \frac{16}{3}$ , 得  $a = \sqrt{2}$ , 延长  $SO$  交外接球于  $E$ , 则  $EB \perp SB$ , 由  $OB^2 = SO \cdot OE$  得

$4 = 2 \cdot (2R-2)$ ,  $R=2$ ,  $V = \frac{4\pi}{3} \times 2^3 = \frac{32\pi}{3}$ , 故选 A.



9. 设集合  $A = \{(x_1, x_2, x_3, x_4, x_5) | x_i \in \{-1, 0, 1\}, i = 1, 2, 3, 4, 5\}$ , 那么集合  $A$  中满足条件

“ $1 \leq |x_1| + |x_2| + |x_3| + |x_4| + |x_5| \leq 3$ ” 的元素个数为\_\_\_\_\_.

解: 填 130.

提示: 因为  $x_i$  的取值只有三种情况:  $-1, 0, 1$ , 故  $|x_i| = \begin{cases} 0, & x_i = 0, \\ 1, & x_i = 1 \text{ 或 } -1. \end{cases}$

记  $m = |x_1| + |x_2| + |x_3| + |x_4| + |x_5|$ , 则由题意可知  $1 \leq m \leq 3$ . 当  $m=1$  时, 只有一个  $|x_i|=1$ , 其余的值都取 0, 故不同的有序数对  $(x_1, x_2, x_3, x_4, x_5)$  共有  $C_5^1 C_2^1 = 10$  个; 当  $m=2$  时, 有两个  $|x_i|=1$ , 其余的值都取 0, 故不同的有序数对  $(x_1, x_2, x_3, x_4, x_5)$  共有  $C_5^2 C_2^1 C_2^1 = 40$  个; 当  $m=3$  时, 有三个  $|x_i|=1$ , 其余的值都取 0, 故不同的有序数对  $(x_1, x_2, x_3, x_4, x_5)$  共有  $C_5^3 C_2^1 C_2^1 C_2^1 = 80$  个. 综上所述, 不同的有序数对共有  $10 + 40 + 80 = 130$  个.)

10. 已知  $f(x) = |x \cdot e^x|$ , 又  $g(x) = f^2(x) + tf(x) (t \in R)$ , 若满足  $g(x) = -1$  的  $x$  有四个, 则  $t$  的取值范围为\_\_\_\_\_.

解: 填  $\left(-\infty, -\frac{e^2+1}{e}\right)$ .

提示:  $f(x) = |xe^x| = \begin{cases} xe^x (x \geq 0) \\ -xe^x (x < 0) \end{cases}$ , 当  $x \geq 0$  时,  $f'(x) = e^x + xe^x \geq 0$  恒成立, 所以  $f(x)$  在  $[0, +\infty)$  上

为增函数; 当  $x < 0$  时,  $f'(x) = -e^x - xe^x = -e^x(x+1)$ , 由  $f'(x) = 0$ , 得  $x = -1$ , 当  $x \in (-\infty, -1)$  时,

$f'(x) = -e^x(x+1) > 0$ ,  $f(x)$  为增函数, 当  $x \in (-1, 0)$  时,  $f'(x) = -e^x(x+1) < 0$ ,  $f(x)$  为减函数, 所

以函数  $f(x) = |xe^x|$  在  $(-\infty, 0)$  上有一个最大值为  $f(-1) = -(-1)e^{-1} = \frac{1}{e}$ , 要使方程  $g(x) = -1$ , 即

$f^2(x) + tf(x) + 1 = 0 (t \in R)$  有四个实数根, 令  $f(x) = m$ , 则方程  $m^2 + tm + 1 = 0$  应有两个不等根, 且

一个根在  $(0, \frac{1}{e})$  内, 一个根在  $(\frac{1}{e}, +\infty)$  内, 再令  $\varphi(m) = m^2 + tm + 1$ , 因为  $\varphi(0) = 1 > 0$ , 则只需  $\varphi(\frac{1}{e}) < 0$ ,

即  $(\frac{1}{e})^2 + \frac{1}{e}t + 1 < 0$ , 解得:  $t < -\frac{e^2+1}{e}$ ; 所以, 使得函数  $f(x) = |x \cdot e^x|$ , 方程  $g(x) = -1$  有四个实数根的

$t$  的取值范围是  $\left(-\infty, -\frac{e^2+1}{e}\right)$ .

## 二、解答题 (请将详细解答步骤写在题后空白处. 每小题 15 分, 共 90 分.)

11. 已知数列  $\{a_n\}$  满足  $a_1 = 1, a_{n+1} = \frac{a_n}{2a_n+1} (n \in \mathbf{N}^*)$ .

(I) 求数列  $\{a_n\}$  的通项公式;

(II) 设  $b_n = \frac{4 \cdot (\frac{2}{3})^{n-1}}{a_n}, n \in \mathbf{N}^*$ , 是否存在  $n \in \mathbf{N}^*$ , 使  $b_n \geq 9$  成立? 请说明理由.

简解: (I) 易知数列  $\{\frac{1}{a_n}\}$  是首项为 1, 公差为 2 的等差数列, 所以  $\frac{1}{a_n} = 2n - 1$ , 故

$$a_n = \frac{1}{2n-1}.$$

(II) 因为  $b_{n+1} - b_n = 4 \cdot (\frac{2}{3})^{n-1} \cdot (\frac{5-2n}{3})$ , 所以当  $n \leq 2$  时,  $b_n < b_{n+1}$ ; 当  $n \geq 3$  时,  $b_n > b_{n+1}$ .

即  $b_1 < b_2 < b_3, b_3 > b_4 > b_5 > \dots$ , 数列呈现先增后减, 于是  $b_3$  是数列的最大项. 而

$b_3 = \frac{80}{9} < 9$ , 故不存在  $n \in \mathbf{N}^*$ , 使  $b_n \geq 9$  成立.

12. 在一次有多位成员参加的会议中要对某一方案进行投票, 每个人投票支持该方案的概率都为  $p, 0 < p < 1$ , 若超过一半的参会人数投票支持该方案, 则该方案获得通过.

(I) 求 5 位成员参加会议时方案通过的概率  $\tilde{p}$ ;

(II) 当参会人数为  $2n+1$  时, 投票通过方案的概率比  $2n-1$  位成员参加投票时通过方案的概率是否会增加, 说明理由.

解: ((I) 当 5 位成员参加会议时, 只有获得不少于 3 张支持票时方案得以通过, 而恰有 3 张支持票的概率为  $C_5^3 p^3 (1-p)^2$ , 恰有 4 张支持票的概率为  $C_5^4 p^4 (1-p)$ ; 全票支持的概率为  $C_5^5 p^5 (1-p)^0$ , 因此, 方案获得通过的概率为

$$\tilde{p} = \sum_{i=3}^5 C_5^i p^i (1-p)^{5-i} = (6p^2 - 15p + 10)p^3.$$

(II) 对于一般的情形, 设参加会议人数为  $2n+1$  时, 投票支持该方案通过的概率为  $P_n$ , 为了使投票方案通过, 前  $2n-1$  个人中至少有  $n-1$  个人投票支持方案.

若  $2n-1$  位成员恰有  $n-1$  个人投票支持方案, 其概率为  $C_{2n-1}^{n-1} p^{n-1} (1-p)^n$ , 此时后两位人员必须同时投票支持方案, 所以此时投票通过的概率为  $[C_{2n-1}^{n-1} p^{n-1} (1-p)^n] \times p^2$ .

若  $2n-1$  位成员恰有  $n$  个人投票支持方案, 其概率为  $C_{2n-1}^n p^n (1-p)^{n-1}$ , 此时后两位人员至少有一个人投票支持方案即可, 所以此时投票通过方案的概率为  $[C_{2n-1}^n p^n (1-p)^{n-1}] \times (1 - (1-p)^2)$ .

若  $2n-1$  位成员至少有  $n+1$  个人投票支持方案, 其概率为  $P_{n-1} - C_{2n-1}^n p^n (1-p)^{n-1}$ ,

因此有

$$P_n = [C_{2n-1}^{n-1} p^{n-1} (1-p)^n] \times p^2 + [C_{2n-1}^n p^n (1-p)^{n-1}] \times (1 - (1-p)^2) + P_{n-1} - C_{2n-1}^n p^n (1-p)^{n-1}$$

所以

$$P_n - P_{n-1} = C_{2n-1}^n p^n (1-p)^n (1 - (1-p)) = p^n (1-p)^n (2p-1) C_{2n-1}^n,$$

故当  $p = \frac{1}{2}$  时,  $P_{n-1} = P_n$ , 投票通过方案的概率不变; 当  $0 < p < \frac{1}{2}$  时,  $P_n < P_{n-1}$ , 投票通过方案的概率降低; 当  $\frac{1}{2} < p < 1$  时,  $P_n > P_{n-1}$ , 投票通过方案的概率增加.

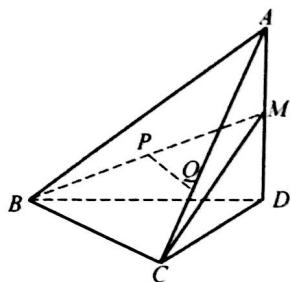
解法 2 直接得到

$$P_{n-1} = \sum_{k=0}^{n-1} C_{2n-1}^k (1-p)^k p^{2n-1-k}, \text{ 利用 } C_{2n+1}^k = C_{2n-1}^k + 2C_{2n-1}^{k-1} + C_{2n-1}^{k-2}, \text{ 也可以推得}$$

$$P_n - P_{n-1} = C_{2n-1}^n p^n (1-p)^n (1 - (1-p)) = p^n (1-p)^n (2p-1) C_{2n-1}^n \text{ 的结论.}$$

13. 如图, 在四面体  $A-BCD$  中,  $AD \perp$  平面  $BCD$ ,  $BC \perp CD$ ,  $AD = 2$ ,  $BD = 2\sqrt{2}$ .  $M$  是  $AD$  的中点,  $P$  是  $BM$  的中点, 点  $Q$  在线段  $AC$  上, 且  $AQ = 3QC$ .

(I) 证明:  $PQ \parallel$  平面  $BDC$ ; (II) 若二面角  $C-BM-D$  的大小为  $60^\circ$ , 求  $\angle BDC$  的大小.



证明: (I) 方法一: 如图 6, 取  $MD$  的中点  $F$ , 且  $M$  是  $AD$  中点, 所以  $AF = 3FD$ . 因为  $P$  是  $BM$  中点, 所以  $PF \parallel BD$ ; 又因为 (I)  $AQ = 3QC$  且  $AF = 3FD$ , 所以  $QF \parallel BD$ , 所以面  $PQF \parallel$  面  $BDC$ , 且  $PQ \subset$  面  $BDC$ , 所以  $PQ \parallel$  面  $BDC$ ;

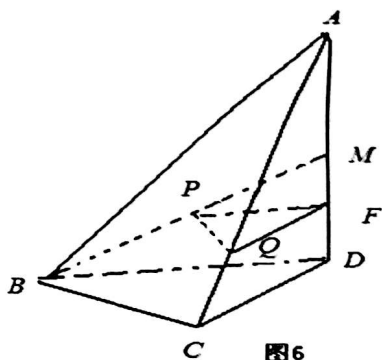


图 6

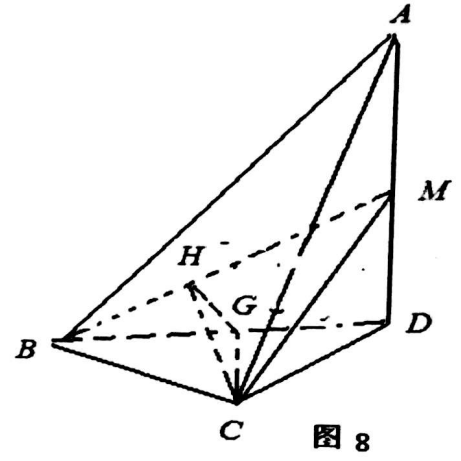
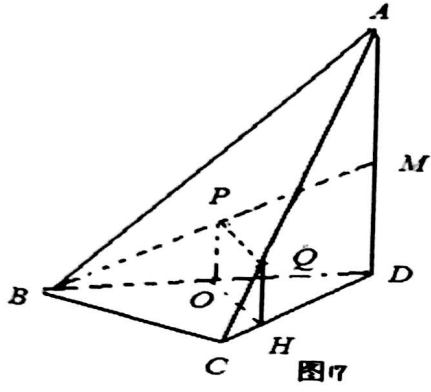
方法二: 如图 7 所示, 取  $BD$  中点  $O$ , 且  $P$  是  $BM$  中点, 所以  $PO \parallel \frac{1}{2}MD$ ; 取  $CD$  的三等分点  $H$ , 使  $DH = 3CH$ , 且  $AQ = 3QC$ , 所以  $QH \parallel \frac{1}{4}AD \parallel \frac{1}{2}MD$ , 所以  $PO \parallel QH \therefore PQ \parallel OH$ , 且  $OH \subset BCD$ , 所以  $PQ \parallel$  面  $BDC$ ;

(II) 如图 8 所示, 由已知得到面  $ADB \perp$  面  $BDC$ , 过  $C$  作  $CG \perp BD$  于  $G$ , 所以  $CG \perp BMD$ , 过  $G$  作  $GH \perp BM$  于  $H$ , 连接  $CH$ , 所以  $\angle CHG$  就是  $C-BM-D$  的二面角; 由已知得到  $BM = \sqrt{8+1} = 3$ , 设  $\angle BDC = \alpha$ , 所以

$$\frac{CD}{BD} = \cos \alpha, \sin \alpha = \frac{CG}{CD} = \frac{CB}{BD} \Rightarrow CD = 2\sqrt{2} \cos \alpha, CG = 2\sqrt{2} \cos \alpha \sin \alpha, BC = 2\sqrt{2} \sin \alpha,$$

在  $RT\triangle BCG$  中,  $\angle BCG = \alpha \therefore \sin \alpha = \frac{BG}{BC} \therefore BG = 2\sqrt{2} \sin^2 \alpha$ , 所以在  $RT\triangle BHG$  中,

$$\frac{HG}{2\sqrt{2} \sin^2 \alpha} = \frac{1}{3} \therefore HG = \frac{2\sqrt{2} \sin^2 \alpha}{3}, \text{所以在 } RT\triangle CHG \text{ 中}$$



$$\tan \angle CHG = \tan 60^\circ = \sqrt{3} = \frac{CG}{HG} = \frac{2\sqrt{2} \cos \alpha \sin \alpha}{\frac{2\sqrt{2} \sin^2 \alpha}{3}}$$

$$\therefore \tan \alpha = \sqrt{3} \therefore \alpha \in (0, 90^\circ) \therefore \alpha = 60^\circ \therefore \angle BDC = 60^\circ$$



14. 有一种风筝骨架的数学模型为:过抛物线  $y^2 = 2px (p > 0)$  内一定点  $E(m, n)$  作斜率分别为  $k_1, k_2$  的两条直线交抛物线于  $A, B, C, D$ , 且  $M, N$  分别为线段  $AB, CD$  的中点, 连结  $MN$ .

(I) 当  $n = 0$ , 且  $k_1 \cdot k_2 = -1$  时的模型称为“标准风筝骨架数学模型”, 试求此时  $\triangle EMN$  的面积的最小值.

(II) 若直线  $MN$  恒过一个定点, 则称点为风筝骨架数学模型的一个“支点”. 试探究当  $k_1 + k_2 = 1$  时, 是否具有“支点”? 若有, 请求出该支点的坐标, 若没有请说明理由.

解: (1) 设  $AB$  所在直线的方程为  $x = t_1(y - n) + m$ , 其中  $t_1 = \frac{1}{k_1}$ , 代入  $y^2 = 2px$  中, 得

$$y^2 - 2pt_1y + 2pt_1n - 2pm = 0.$$

设  $A(x_1, y_1), B(x_2, y_2)$ , 则有

$$y_1 + y_2 = 2pt_1, \quad x_1 + x_2 = t_1(y_1 + y_2 - 2n) + 2m = t_1(2pt_1 - 2n) + 2m, \quad \text{故 } M(pt_1^2 - nt_1 + m, pt_1).$$

再设  $CD$  所在直线的方程为  $x = t_2(y - n) + m$ , 其中  $t_2 = \frac{1}{k_2}$ , 同理可得  $N(pt_2^2 - nt_2 + m, pt_2)$ .

(I) 对于“标准风筝骨架数学模型”, 由  $n = 0$ , 得

$$M(pt_1^2 + m, pt_1), \quad N(pt_2^2 + m, pt_2), \quad |EM| = |pt_1|\sqrt{1+t_1^2}, \quad |EN| = |pt_2|\sqrt{1+t_2^2}.$$

又  $k_1 \cdot k_2 = -1$ , 故  $t_1 \cdot t_2 = -1$ , 于是  $\triangle EMN$  的面积

$$S = \frac{1}{2}|EM| \cdot |EN| = \frac{1}{2}|p^2 t_1 t_2| \sqrt{(1+t_1^2)(1+t_2^2)} = \frac{p^2}{2} \cdot \sqrt{2+t_1^2+t_2^2} \geq \frac{p^2}{2} \cdot \sqrt{4} = p^2.$$

当且仅当  $|t_1| = |t_2| = 1$  时等号成立. 所以,  $\triangle EMN$  的面积的最小值为  $p^2$ .

$$(II) \text{ 由斜率公式, 得 } k_{MN} = \frac{p(t_1 - t_2)}{p(t_1^2 - t_2^2) - n(t_1 - t_2)} = \frac{1}{(t_1 + t_2) - \frac{n}{p}}.$$

$$\text{故 } MN \text{ 所在直线方程为 } y - pt_1 = \frac{1}{(t_1 + t_2) - \frac{n}{p}} \cdot [x - (pt_1^2 - nt_1 + m)], \text{ 即 } y \left( t_1 + t_2 - \frac{n}{p} \right) - pt_1 t_2 = x - m.$$

$$\text{又 } k_1 + k_2 = \frac{1}{t_1} + \frac{1}{t_2} = 1, \text{ 即 } t_1 \cdot t_2 = t_1 + t_2, \text{ 代入上式, 得 } (t_1 + t_2)(y - p) = x + \frac{ny}{p} - m.$$

所以, 当  $y = p$ ,  $x = m - n$ , 即直线  $MN$  恒过定点  $(m - n, p)$ , 即风筝骨架数学模型具有“支点”, 坐标为

$$(m - n, p).$$

15. 在  $\triangle ABC$  中,

(I) 求证:  $\sin A + \sin B \leq 2 \cos \frac{C}{2}$ .

(II) 求  $\sin A + \sin B + \sqrt{3} \sin C$  取得最大值.

解:  $\sin A + \sin B + \sqrt{3} \sin C = \sin A + \sin(A+C) + \sqrt{3} \sin C$   
 $= \sin A + \sin A \cos C + \cos A \sin C + \sqrt{3} \sin C$   
 $= \sin A(1 + \cos C) + \cos A \sin C + \sqrt{3} \sin C$

由柯西不等式有

$$\sin A(1 + \cos C) + \cos A \sin C \leq \sqrt{(\sin^2 A + \cos^2 A)[(1 + \cos C)^2 + \sin^2 C]}$$
$$= \sqrt{2 + 2 \cos C} = 2 \cos \frac{C}{2},$$

当且仅当  $\frac{\sin A}{1 + \cos C} = \frac{\cos A}{\sin C}$ , 即  $\frac{\sin A}{\cos A} = \frac{1 + \cos C}{\sin C}$ , 亦即  $\tan A = \frac{1}{\tan \frac{C}{2}}$  时, 即  $A + \frac{C}{2} = \frac{\pi}{2}$

时, “=” 成立.

所以  $\sin A + \sin B + \sqrt{3} \sin C \leq 2 \cos \frac{C}{2} + \sqrt{3} \sin C$ .

令  $f(C) = 2 \cos \frac{C}{2} + \sqrt{3} \sin C$ ,  $0 < C < \pi$ , 则

$$f'(C) = -\sin \frac{C}{2} + \sqrt{3} \cos C = -\sin \frac{C}{2} + \sqrt{3}(1 - 2 \sin^2 \frac{C}{2})$$
$$= -2\sqrt{3} \sin^2 \frac{C}{2} - \sin \frac{C}{2} + \sqrt{3}.$$

令  $f'(C) = 0$ , 则  $\sin \frac{C}{2} = \frac{\sqrt{3}}{3}$  ( $\sin \frac{C}{2} = -\frac{\sqrt{3}}{2}$  舍去). 记满足  $\sin \frac{C}{2} = \frac{\sqrt{3}}{3}$  的角  $C$  为  $C'$ , 则当  $0 < C < C'$

时,  $f'(C) > 0$ ,  $f(C)$  单调递增; 当  $C' < C < \pi$  时,  $f'(C) < 0$ ,

$f(C)$  单调递减. 所以当角  $C$  为  $C'$  时,  $f(C)$  取得最大值.

当  $\sin \frac{C}{2} = \frac{\sqrt{3}}{3}$  时,  $\cos \frac{C}{2} = \frac{\sqrt{6}}{3}$ ,  $\sin C = 2 \sin \frac{C}{2} \cos \frac{C}{2} = 2 \times \frac{\sqrt{3}}{3} \times \frac{\sqrt{6}}{3} = \frac{2\sqrt{2}}{3}$ ,

$$2 \cos \frac{C}{2} + \sqrt{3} \sin C = \frac{4\sqrt{6}}{3}.$$

综上所述,  $\sin A + \sin B + \sqrt{3} \sin C$  的最大值为  $\frac{4\sqrt{6}}{3}$ .

16. 设  $a > 0, a \neq 1$  , 函数  $f(x) = a^x - x^a (x > 0)$  .

(I) 若上述函数只有一个零点, 求  $a$  的取值范围;

(II) 若上述函数有两个零点  $x_1, x_2$  , 证明:  $x_1 + x_2 > 2e$  .

解: (I) 设  $f(x) = a^x - x^a = 0$  , 则它等价于  $\frac{\ln x}{x} = \frac{\ln a}{a}$  , 该等式等价于直线  $y = \frac{\ln a}{a}$  与函数  $F(x) = \frac{\ln x}{x}$  有两个交点, 注意到  $F'(x) = \frac{1 - \ln x}{x^2} = 0$  解得  $x = e$  , 即  $\max_{x>0} F(x) = F(e) = \frac{1}{e}$  , 在区间  $(0, e)$  上函数  $F(x)$  从  $-\infty$  递增到  $F(x) = 0$  再递增到  $F(e) = \frac{1}{e}$  ; 在区间  $(e, +\infty)$  上, 函数  $F(x)$  从  $\frac{1}{e}$  单调递减趋近于 0 , 且  $x$  轴为其渐近线. 故当  $0 < a < 1$  时,  $\frac{\ln a}{a} < 0$  , 利用函数  $F(x)$  的单调性知直线  $y = \frac{\ln a}{a}$  与函数  $F(x)$  仅有一个交点.

(2) 设两个零点分别为  $x_1, x_2$  , 设  $x_1 < x_2$  , 由题设有  $1 < x_1 < e < x_2$  , 于是  $2e - x_1 = e + (e - x_1) > e$  , 因此, 要证明  $x_1 + x_2 > 2e$  , 等价于  $x_2 > 2e - x_1 > e$  , 由于函数  $F(x) = \frac{\ln x}{x}$  在区间  $(e, +\infty)$  单调递减, 故只需证明  $\frac{\ln a}{a} = F(x_2) < F(2e - x_1)$  即可.

由于  $x_1, x_2$  中有一个为  $a$  , 若  $x_1 = a < e$  , 则等价于证明

$$\frac{\ln a}{a} < \frac{\ln(2e - a)}{2e - a} (a < e) .$$

构造函数  $g(x) = (2e - x) \ln x - x \ln(2e - x)$  ( $1 < x < e$ ) , 由于

$$g'(x) = \frac{2e - x}{x} + \frac{x}{2e - x} - \ln x - \ln(2e - x) , \text{ 当 } 1 < x < e \text{ 时,}$$

$$-\ln x(2e - x) > -\ln e(2e - e) = -2 , \text{ 而 } \frac{2e - x}{x} + \frac{x}{2e - x} > 2 , \text{ 因此有}$$

$g'(x) > 0 (1 < x < e)$  成立. 注意到  $g(1) = -\ln(2e - 1) < 0, g(e) = 0$  , 这说明, 当  $1 < x < e$  时, 恒有

$g(x) < 0$  , 故有  $\frac{\ln a}{a} < \frac{\ln(2e - a)}{2e - a} (a < e)$  成立, 从而有  $x_1 + x_2 > 2e$  成立.

当  $x_2 = a > e$  时, 则有  $2e - a < e < a$  , 与上述讨论完全类似可以得到  $x_1 + x_2 > 2e$  成立.